



## ОБЛАСТНО СЪСТЕЗАНИЕ

„ИСКАМ ДА ЗНАМ И ДА МОГА“ - 3.12.2016

ТЕМА: НА СЕЛО

Здравей!

Приятно ни е, че си участник в петото областно състезание „Искам да знам и да мога“!

Подготвили сме за теб 9 интересни задачи. Прочети внимателно условието на всяка от тях и ги реши !

УСПЕХ!

*Имало едно време, когато бабите не живееха в другия край на града, а летните ваканции внуците прекарваха на село. Там от сутрин до вечер без страх се играеше на гоненица, караха се колелета, без разрешение се ходеше до близката рекичка и се плуваше. После имаше наказание, но не беше един ден без таблет или телевизия, а един ден без да излизаш навън.*

*Мечтаете през лятото да бъдете на село, а си нямате. Това не е проблем - може да отидете на "Село назаем". Какво е това! Ще разберете, ако работите по задачите, които сме Ви приготвили.*



**Задача 1** Ура, Катето и Петьо са в лятна ваканция! Това лято те ще прекарат десет дни в село назаем.

А/Прочети диалога и го запиши като съобщение.

- Тошко, здравей!
- Привет!
- Кога заминава групата за село?
- Госпожа Петрова съобщи, че ще тръгнем на 12 август в 11:00 часа от централната автогара.
- Всеки сам ли трябва да отиде на автогарата?
- Не, всички участници в групата „Село назаем“ се събират в 8:00 часа на входа на метрото до училището.

### СЪОБЩЕНИЕ

---

---

---

---

---

---

---

---

---

---



Б/ Досети ли се от кой град тръгват участниците в „Село назаем“. Запиши името му.



\_\_\_\_\_

В/ Напиши старите имена на столицата.



\_\_\_\_\_



**Задача 2** Интересно преживяване при пътуването беше преминаването през тунелите в най-дългата планина в България.

А/ Пресметни числовите изрази и подреди буквите в таблицата според получения отговор, за да узнаеш коя е тя.



**Т**  $(960 - 830) - 9.8 + 16 : 16 =$

\_\_\_\_\_  
\_\_\_\_\_  
\_\_\_\_\_

**Л**  $5 + 50 : 5 =$

\_\_\_\_\_  
\_\_\_\_\_  
\_\_\_\_\_

**А**  $3 + 7.6 =$

\_\_\_\_\_  
\_\_\_\_\_  
\_\_\_\_\_

**И**  $56 : 7 + (356 + 497) =$

\_\_\_\_\_  
\_\_\_\_\_  
\_\_\_\_\_

**Н**  $100 : 10 + 3.200 + (100 - 29) =$

\_\_\_\_\_  
\_\_\_\_\_  
\_\_\_\_\_

**С**  $100 : 100 - 1.0 =$

\_\_\_\_\_  
\_\_\_\_\_  
\_\_\_\_\_

**Р**  $215 + 47 - 7.8 + 42 =$

\_\_\_\_\_  
\_\_\_\_\_  
\_\_\_\_\_

**П**  $(173 + 258) + 9.7 =$

\_\_\_\_\_  
\_\_\_\_\_  
\_\_\_\_\_

|   |    |    |     |    |     |    |    |     |     |     |    |
|---|----|----|-----|----|-----|----|----|-----|-----|-----|----|
| 1 | 59 | 45 | 248 | 45 | 494 | 15 | 45 | 681 | 861 | 681 | 45 |
|   |    |    |     |    |     |    |    |     |     |     |    |



Името на планината е \_\_\_\_\_.

Б/ След дългото пътуване видяхме табелата на нашето село. То носи името на велик българин. В годините на османското владичество той обикалял села и градове, основавал тайни комитети и подготвял населението за въстание. Запиши името на селото в крайпътната табела.




В/ Посочете две имена на села или градове, които носят имената на велики българи:



---

Г/ Какво означава пътният знак до крайпътната табела:



---



**Задача 3** Вече сме в селото. Настаниха ни в семейството на баба Райна и дядо Петър.

А/ Петьо написа писмо на родителите си, но в бързината допусна грешки. Редактирай!



Здравей мамо

Тук е много интересно. Всяка сутрин зъкусваме на верандата и се любуваме на изгрева. Баба приготвя ароматен билкоф чай и препечени филики с сирене. Прес деня помагам на дядо. Чистиме на животните, окопаваме и поливаме зеленчуците. Сбаба сабираме яйцата. На село въздохът е чист чувствам се прекрасно.

Петьо

Б/ Напиши синоним на думата „веранда“:



---

В/ В коя част на къщата е разположена верандата? Подчертай верния отговор:

*северна, източна, западна, южна*



**Задача 4** Петьо изпълнява заръката на дядо Петър да нахрани животните, но в бързината забравил отворена портичката.

А/ В градината влезли няколко агънца и кокошки. Главите им са 9 , а краката – 26.



Броят на агънцата е \_\_\_\_\_.

Броят на кокошките е \_\_\_\_\_.

Б/ Открой и запиши животните, които се отглеждат във фермата на селото.



|   |   |   |   |   |   |
|---|---|---|---|---|---|
| К | Р | А | В | А | П |
| О | В | Ц | А | Г | У |
| Н | П | Ъ | У | Н | Й |
| П | Р | В | Ъ | Е | К |
| П | А | Т | И | Ц | А |
| Й | С | Т | Е | Л | Е |
| П | Е | Т | Е | Л | Б |

---

---

---

---

---

---

---

---



**Задача 5** Баба Райна решила да направи баница за вечеря.




А/ Изпратила дядото и Петьо да издоят мляко от \_\_\_\_\_.

Допълнете изречението с названия на животни от фермата.

Б/ Ммммм..... Колко приятно ухае от кухнята на баба!

Какви продукти са нужни да се направи вкусна домашна баница? Помогни на Катето да ги оцвети:





















|        |        |         |        |
|--------|--------|---------|--------|
| сирене | брашно | сол     | мляко  |
| захар  | яйца   | горчица | домати |
| вода   | ягоди  | чушки   | масло  |

В/ Докато изчакват баницата да изстине, баба Райна и Катето излязоха да полелят лехите със зеленчуците в градината.



Като използваш информацията в таблицата, определи и запиши в коя леха баба е засяла зеленчуците.

|   | 1                                                                                 | 2                                                                                 | 3                                                                                 | 4                                                                                 | 5                                                                                 |
|---|-----------------------------------------------------------------------------------|-----------------------------------------------------------------------------------|-----------------------------------------------------------------------------------|-----------------------------------------------------------------------------------|-----------------------------------------------------------------------------------|
| А |  |  |                                                                                   |                                                                                   |  |
| Б |  |                                                                                   |  |  |  |
| В |  |                                                                                   |  |  |  |
| Г |  |                                                                                   |  |  |                                                                                   |
| Д |  |  |                                                                                   |  |  |

Краставици

Б4

---

---

---

---

---

---

---

---



**Задача 6** Вечерта всички заедно излязохме в центъра на селото. На мегдана имаше хоро. Свиреше оркестър.

А/ Запиши названията на народните инструменти, които използва оркестърът.




---

---

---

---

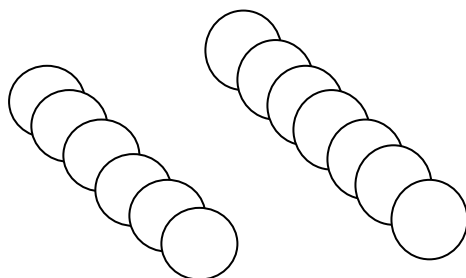
Б/ Колко много хора! Едни разговарят, други са на хорото, децата се гонят .... Весело е!

Като използваш схемата, отговори на въпросите.



В празника на селото участват \_\_\_\_\_ деца, които са с \_\_\_\_\_ от възрастните.

Колко деца и възрастни участват в селския празник? \_\_\_\_\_



Легенда:  → 70

\_\_\_\_\_ деца

\_\_\_\_\_ възрастни



**Задача 7** Колко много звезди ...! Тишина! Какви приказки знае дядо! И колко мъдро съветва!

А/ Ако разгадаеш кода, ще разбереш какво посъветвал дядо Петър децата.

пътуват и страница нея книга не една   
 е четат тези само от Светът които

Образувай изречение, като следваш кода. Запиши го.

, ,



\_\_\_\_\_

Б/ Използвай някои от думите и напиши подбудително изречение.



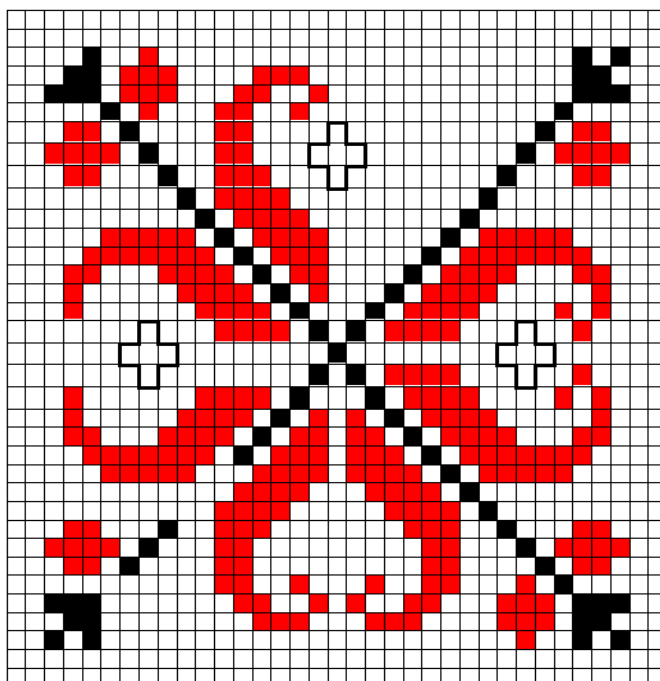
\_\_\_\_\_



**Задача 8** Колко е щастлива баба Райна! Седи си сама в ъгъла, бродира и се усмихва....

Сигурно мисли за своите внуци, които са далеч в чужбина...!

Помогнете ѝ да довърши шевицата.

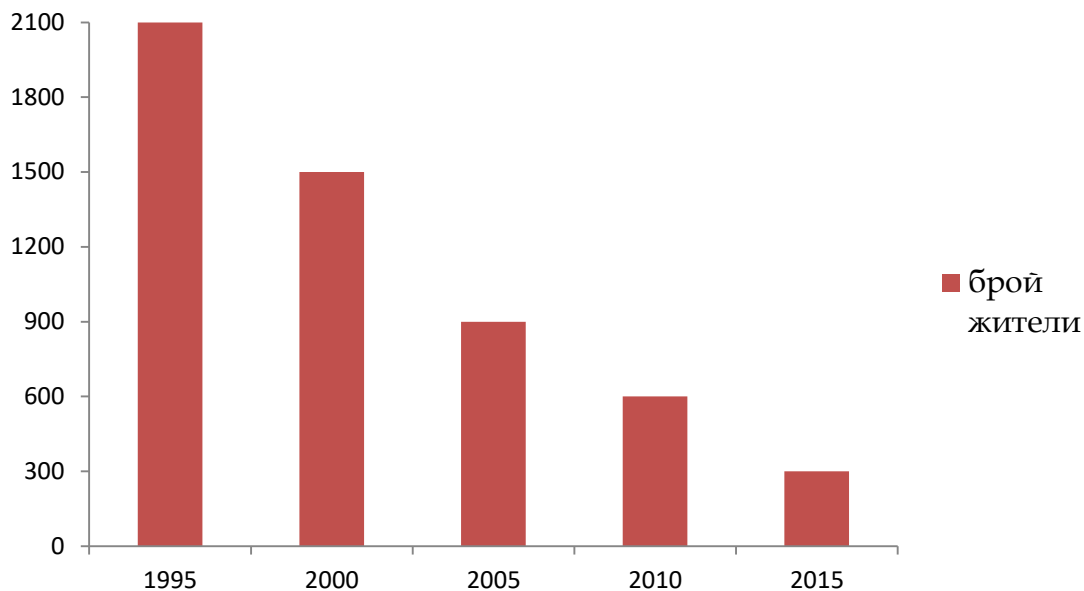




**Задача 9** Докато приготвяха закуската за следващия ден, дядо Петър и баба Райна си говореха колко е хубаво на село през лятото, защото има много хора. Някога то е било едно от големите села в околността, но днес ...



А/ Разгледайте диаграмата и отговорете на въпросите.



През коя година селото е имало най-много жители? \_\_\_\_\_

Колко са били жителите в селото през 2005 година? \_\_\_\_\_

С колко повече са били жителите през 1995 година в сравнение с 2015 година?

Решение:

---

---



Б/ Ти имаш ли село? \_\_\_\_\_

Как се казва? \_\_\_\_\_

Защо се нарича така? \_\_\_\_\_